

Algorytmy i Struktury Danych - rozwiązania zadań z kolokwiów

2023-11-21

1 Klasówka 2007 (1), zadanie 1

Opracuj strukturę danych, która pozwala wykonywać następujące operacje:

- $\text{Ini}(k)$:: inicjacja struktury danych i ustalenie długości krotek liczb całkowitych na k
- $\text{Insert}(\langle a_1, a_2, \dots, a_k \rangle)$:: dodaje do struktury krotkę $\langle a_1, a_2, \dots, a_k \rangle$
- Min :: podaje najmniejszą leksykograficznie krotkę w strukturze
- ExtractMin :: usuwa najmniejszą leksykograficznie krotkę ze struktury

W Twoim rozwiązaniu operacje Insert i ExtractMin powinny być wykonywane w czasie $O(\log n + k)$

Rozwiązanie:

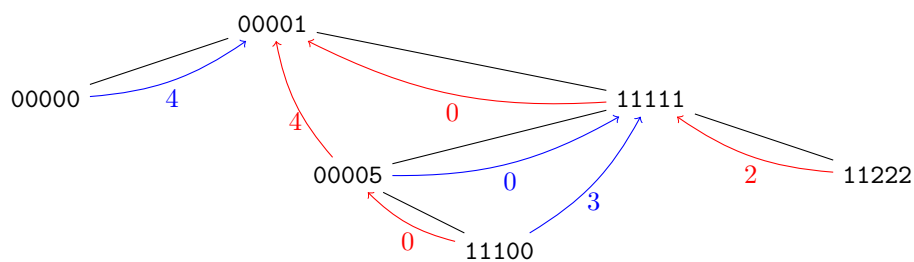
Jako bazową strukturę będziemy używać drzew Czerwono-czarnych. Dzięki temu wysokość struktury nie będzie przekraczać $O(\log n)$, oraz co później okaże się istotne liczba rotacji czy wstawianiu/usuwaniu kluczy jest rzędu $O(1)$.

W każdym węźle utrzymujemy następujące informacje:

- key : krotkę $\langle a_1, \dots, a_k \rangle$,
- p_{left} wskaźnik do najbliższego przodka będącego po lewej stronie,
- p_{right} wskaźnik do najbliższego przodka będącego po prawej stronie,
- lcp_{left} najdłuższy wspólny prefiks pomiędzy kluczem z węzła i kluczem z p_{left} ,
- lcp_{right} najdłuższy wspólny prefiks pomiędzy kluczem z węzła i kluczem z p_{right} ,

W jaki sposób aktualizować takie dodatkowe atrybuty?

- dodawanie nowego liścia – musimy wyznaczyć atrybuty p_{left} i p_{right} (w czasie $O(\log n)$), następnie obliczamy wartości lcp_{left} i lcp_{right} (w czasie $O(k)$),



Rysunek 1: Przykładowe drzewo dla krotek $k = 5$, wskaźniki p_{left} zaznaczone są na czerwono, wskaźniki p_{right} na niebiesko. Wartości lcp_{left} i lcp_{right} zaznaczone są jako etykiety krawędzi.

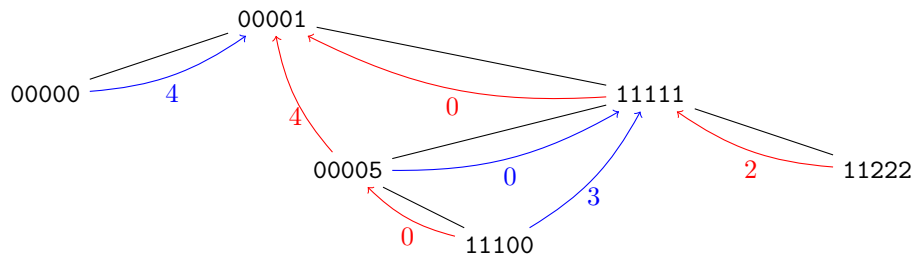
- usuwanie skrajnie prawego węzła (najmniejszy klucz w drzewie) – jeśli węzeł jest liściem to nie musimy nic zrobić, jeśli ma prawego syna (z własności drzew czerwono czarnych prawy syn musi być już liściem) to poprawiamy w nim wartości p_{left} i p_{lcp} (zmieniając je na NULL)
- rotacje – jeśli wykonujemy rotację węzłów x i $y = parent(x)$ to zauważamy, że musimy jedynie zaktualizować część atrybutów z x i y , wartości atrybutów w pozostałych węzłach zostają bez zmian. Koszt aktualizacji pojedynczego węzła wynosi $O(k)$.

Jak zrealizować operację *Insert* w czasie $O(\log n + k)$?

Musimy pokazać, że dzięki dodatkowym atrybutom lcp uda nam się znacząco przyspieszyć porównywanie krotki z węzłami podczas przechodzenia po drzewie od korzenia do miejsca w którym nowa krotka powinna być wstawiona. Dzieje się, tak dlatego, że dzięki wartościom lcp możemy często w czasie $O(1)$ porównać wstawianą krotkę z wartością w węźle.

Algorytm 1: Insert($r, A = \langle a_1, \dots, a_k \rangle$)

```
 $v := r; lcp_l = \text{NULL}; lcp_r = \text{NULL}$ 
while  $v \neq \text{NullNode}$  do
  niech  $p_l = p_{\text{left}}(v), p_r = p_{\text{right}}(v)$ 
  niezmiennik:  $lcp_l = \text{NULL}$  lub  $LCP(A, \text{key}(p_l)) = lcp_l \leq lcp_{\text{left}}(v)$ 
  niezmiennik:  $lcp_r = \text{NULL}$  lub  $LCP(A, \text{key}(p_r)) = lcp_r \leq lcp_{\text{right}}(v)$ 
  if  $lcp_l \neq \text{NULL}$  and  $lcp_l < lcp_{\text{left}}(v)$  then
    |  $v = \text{right}(v)$ 
  else if  $lcp_r \neq \text{NULL}$  and  $lcp_r < lcp_{\text{right}}(v)$  then
    |  $v = \text{left}(v)$ 
  else
    |  $l = \max(\text{coalesce}(lcp_l, 0), \text{coalesce}(lcp_r, 0))$ 
    | while  $l < k$  and  $a_{l+1} = \text{key}(v)[l+1]$  do
    |   |  $l = l + 1$ 
    | if  $l = k$  then
    |   | krotka już istnieje w drzewie
    | else if  $a_{l+1} < \text{key}(v)[l+1]$  then
    |   |  $v = \text{left}(v); lcp_r = l$ 
    | else if  $a_{l+1} > \text{key}(v)[l+1]$  then
    |   |  $v = \text{right}(v); lcp_l = l$ 
```



2 Klasówka 2007 (1), zadanie 2

Udowodnij, że jeśli algorytm sortujący tablicę $A[1..n]$ porównuje i zamienia wyłącznie elementy odległe co najwyżej o 2007 (tzn. jeśli porównuje $A[i]$ z $A[j]$, to $|i - j| \leq 2007$), to jego pesymistyczny czas działania jest co najmniej kwadratowy.

Rozwiązanie: Pojedyncza zamiana usuwa $O(1)$ inwersji więc dla ciągu odwrotnie uporządkowanego (który ma $\Theta(n^2)$ inwersji) algorytm wymaga czasu $\Omega(n^2)$.

3 Klasówka 2008 (1), zadanie 2

Zaproponuj wzbogacenie kopca zupełnego w taki sposób, żeby efektywnie w czasie amortyzowanym wykonywane były operacje: Min, DeleteMin, Insert, CountMin. Ostatnia operacja polega na podaniu aktualnej liczby elementów

w kopcu o wartości równej Min. Przeprowadź analizę kosztu zamortyzowanego wykonania poszczególnych operacji.

Rozwiązanie: Wzbogacamy węzły kopca o atrybut `countEq` oznaczającą liczbę węzłów w poddrzewie zawierających identyczną wartość co ten zapisany w kluczu. Uwaga! atrybut ten nie ma znaczenia globalnego (bo trudno byłoby aktualizować jego wartości) tylko lokalne i dotyczy tylko poddrzewa danego węzła.

Dzięki takiemu atrybutowi `CountMin` jest operacją trywialną. Możemy też aktualizować wartość tego atrybutu przy wszystkich operacjach kopcowych.

4 Klasówka 2009 (1), zadanie 1

Dana jest tablica $n \times n$, $n > 1$, w której w każde pole wpisano liczbę całkowitą. Chcemy przejść z dolnego lewego rogu (z $(1,1)$) do górnego prawego rogu (do (n,n)) i wrócić, idąc w drodze z $(1,1)$ zawsze w prawo lub w górę, a z powrotem - w lewo lub w dół. Z danego pola można przejść tylko na pola sąsiednie (współrzędne różnią się o 1 na dokładnie jednej pozycji). Żadne pole nie może się pojawić na całej trasie (czyli tam i z powrotem) więcej niż raz, poza polem $(1,1)$, które pojawia się na początku i na końcu trasy. Zaprojektuj algorytm znajdowania najtańszej trasy, czyli takiej, na której suma wartości pól jest najmniejsza. **Rozwiązanie:** dynamik po przekątnych

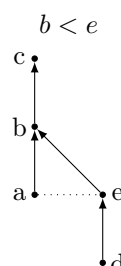
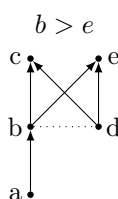
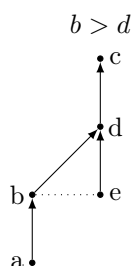
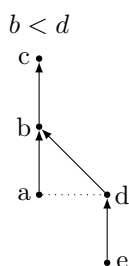
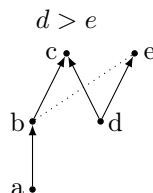
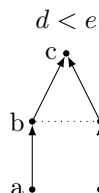
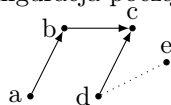
5 Klasówka 2010 (1), zadanie 2

Wykaż, że każdy algorytm znajdujący medianę w zbiorze 5-elementowym wykona w pesymistycznym przypadku co najmniej 5 porównań. Zaproponuj algorytm dokonujący tego za pomocą co najwyżej 6 porównań.

Rozwiązanie: Dolna granica: dzielimy wszystkie permutacje $\{1, \dots, 5\}$ na klasy abstrakcji: (pozycja mediany, zbiór pozycji elementów mniejszych od mediany). Na przykład permutacja $(5, 1, 4, 3, 2)$ należy do klasy abstrakcji $(4, \{2, 5\})$. Takich klas abstrakcji jest $5 \cdot \binom{4}{2} = 30$. Dowolne drzewo porównań które rozróżnia wszystkie klasy abstrakcji musi mieć wysokość $h \geq \log_2 30 > 4$. Zauważmy, że jeśli algorytm utożsamia jakieś dwie klasy abstrakcji to możemy skonstruować dane dla których udzieli nieprawidłowej odpowiedzi.

Algorytm wykonujący 6 porównań. Porównaj a i b , porównaj c i d , porównaj $\max(a, b)$ i $\max(c, d)$. Bez utraty ogólności $a > b > c$ i $d > c$. Następnie:

Konfiguracja początkowa



6 Klasówka 2011 (1), zadanie 1

Danych jest n słów o takiej samej długości k , zbudowanych ze znaków n -elementowego, uporządkowanego alfabetu. Rozmiarem zadania w tym przypadku jest $R = nk$.

- Zaproponuj algorytm, który dla danego i , $1 \leq i \leq k$, obliczy w czasie $O(R)$ liczbę wszystkich par słów, które różnią się tylko na i -tej pozycji.
- Zaproponuj algorytm, który obliczy w czasie $O(R)$ liczbę wszystkich par słów, które różnią się tylko na dokładnie jednej pozycji.

Rozwiązanie: Zakładamy że wszystkie słowa na wejściu są różne (możemy to łatwo sprawdzić).

Dla dowolnego i, j przez $pref(i, j)$ oznaczamy kod prefiksu słowa w_i długości j , chcemy żeby kody były liczbami z zakresu $1..n$ takimi, że, $w_i[1..j] = w_q[1..j]$ wtw $pref(i, j) = pref(q, j)$ (czyli mogą służyć do porównywania prefiksów ustalonej długości)

Analogicznie definiujemy dla sufiksów: $suf(i, j)$.

Rozwiązujemy w czasie $O(n)$ każdy problem z osobna dla $j \in 1..k$ (w tym kroku będziemy liczyć pary słów które różnią się dokładnie na j -tej pozycji)

```

P = ∅
for i:=1..n do
  for j:=1..k do
    P += (pref(i, j - 1), suf(i, k - j), i) (czyli zapisujemy kod słowa
    bez j-tego znaku)
posortuj leksykograficznie trójki z P
ile:=0
foreach grupy G trójek o tych samych wartościach pierwszych dwóch
elementów do
  // dowolna para słów z G różni się jedynie na j-tej pozycji
  ile+ = |G| * (|G| - 1)/2

```

Warto zauważyć, że jeśli jakieś dwa słowa różnią się na dokładnie jednej pozycji to istnieje tylko jedna wartość j w której zostaną zliczone

Ponieważ każda faza zajmuje czas $O(n)$ i faz jest k więc cały algorytm zajmuje $O(nk)$.

Pozostaje jeszcze powiedzieć jak obliczyć pref/suf - robimy to podobnie jak w izomorfizmie drzew, trzeba po prostu kompresować kody:

```

for i:=1 to n do
  pref(i, 1) = wi[1]
for j:=2 to k do
  P = ∅
  for i:=1 to n do
    P += (pref(i, j - 1), wi[j], i)
  posortuj leksykograficznie trójki z P
  zgrupuj trójki o tych samych wartościach pierwszych dwóch
  elementów w G1, G2, ..Gp
  for t:=1 to p do
    foreach (p, q, i) ∈ G do
      pref(i, j) = t

```

7 Klasówka 2011 (1), zadanie 2

W tym zadaniu rozważamy n -elementowe ciągi k -uporządkowane (i -ty element ciągu jest nie większy od elementu $i + k$), $1 \leq k \leq n$.

(5 pkt) Udowodnij, że każdy algorytm sortujący przez porównania wymaga w pesymistycznym przypadku $\Omega(n \log k)$ porównań do posortowania n -elementowego ciągu k -uporządkowanego.

(5 pkt) Zaproponuj algorytm sortujący takie ciągi w czasie $O(n \log k)$.

Rozwiązanie: TODO

8 Klasówka 2012 (1), zadanie 2

Powiemy, że dwa napisy są podobne wtedy i tylko wtedy, gdy zawierają jednakowe

liczby wystąpień tych samych znaków. Danych jest n napisów nad alfabetem m -znakowym $\{1, 2, \dots, m\}$. Zaproponuj algorytm, który stwierdza, ile jest wśród nich różnych klas napisów podobnych. Twój algorytm powinien działać w czasie $O(R + m)$, gdzie R jest sumą długości wszystkich napisów.

Rozwiązanie: Podstawowa idea:

- dla każdego słowa w_i oblicz jego kod $code(w_i) = sorted(w_i)$, gdzie $sorted(w)$ oznacza słowo w z uporządkowanymi niemalejącymi znakami (np. $sorted(adbacab) = aaabbc$)
- posortuj słowa $code(w_1), \dots, code(w_n)$ używając algorytmu z ćwiczeń (sortowanie leksykograficzne słów różnej długości)
- usuń duplikaty z posortowanej listy.

Kroki drugi i trzeci w oczywisty sposób zajmą czas $O(R + m)$. Niestety jeśli pierwszy krok tego algorytmu zaimplementujemy naiwnie, to może się okazać, że obliczenie $code(w_i)$ zajmie nam czas $O(|w_i| + m)$, co w sumie może dać $O(R + nm)$.

Na szczęście możemy wygenerować kody słów w efektywniejszy sposób. Każdy znak z w_1, \dots, w_n zastępujemy przez trójkę (c, i, j) oznaczającą że $w_i[j] = c$. Sortujemy wszystkie trójki w jednym kroku. Teraz dzięki tej posortowanej liście mamy uporządkowane wszystkie litery z całego zbioru słów i możemy je kolejno dopisywać do kodów słów:

```

Input: lista słów  $w_1, \dots, w_n$ 
 $T :=$  pusta lista
foreach  $w_i \in w_1, \dots, w_n$  do
  | foreach  $j \in 1, \dots, |w_i|$  do
  | | dodaj  $(w_i[j], i, j)$  do  $T$ 
posortuj leksykograficznie trójki z  $T$ 
foreach  $i \in 1, \dots, n$  do
  |  $code[w_i] = \epsilon$  (pusty napis)
foreach  $(c, i, j) \in T$  do
  |  $code[w_i] += c$ 

```

Dzięki “zbiorcemu” sortowaniu listy T udało się obliczyć kody wszystkich słów w w czasie $O(R + m)$.

Przykład:

```

w_1 = aba
w_2 = ba
w_3 = caa
w_4 = ab

```

```

T = [
  (a, 1, 1), (b, 1, 2), (a, 1, 3),
  (b, 2, 1), (a, 2, 2),
  (c, 3, 1), (a, 3, 2), (a, 3, 3),
  (a, 4, 1), (b, 4, 2)
]

```

```

posortowane T = [
  (a, 1, 1), (a, 1, 3), (a, 2, 2), (a, 3, 2), (a, 3, 3), (a, 4, 1),
  (b, 1, 2), (b, 2, 1), (b, 4, 2),
  (c, 3, 1)
]

code(w_1) = aab
code(w_2) = ab
code(w_3) = aac
code(w_4) = ab

```

9 Klasówka 2012 (1), zadanie 3

Dana jest $2n$ -elementowa tablica zawierająca n zer i n jedynek. Chcemy ją uporządkować tak, żeby zera i jedynki były ułożone na przemian, począwszy od zera, tj. 010101... Zaproponuj efektywny algorytm, który wykona to w miejscu i stabilnie (tj. kolejność zer i kolejność jedynek z wejścia muszą być zachowane).

Rozwiązanie: Posortuj stabilnie (ala MergeSort) a następnie rekurencyjnie poprzeplataj.

Algorytm 2: Sort(A)

```

if  $|A| \geq 2$  then
   $(Z_l, O_l) = \text{Sort}(A[1..n/2])$ 
   $(Z_r, O_r) = \text{Sort}(A[n/2 + 1..n])$ 
  Exchange( $O_l, Z_r$ )
  return  $(Z_l + Z_r, O_l + O_r)$ 
else
  return  $(A, \emptyset)$  (if  $A=[0]$ ) or  $(\emptyset, A)$  otherwise

```

Algorytm 3: Unpack(A)

```

if  $|A| > 2$  then
   $l = \lfloor |A|/4 \rfloor$ ;  $r = \lceil |A|/4 \rceil$ ;
  // zamień ciąg  $0^{|A|/2}1^{|A|/2}$  na  $0^l1^l0^r1^r$ 
  Exchange( $A[(l+1)..2l], A[(2l+1)..(2l+r)]$ )
  Unpack( $A[1..2l]$ )
  Unpack( $A[(2l+1)..n]$ )

```

10 Klasówka 2012 (2), zadanie 1

Zaprojektuj strukturę danych, która umożliwi efektywne wykonywanie ciągu operacji Łącz(u,v) i Głębokość(u) na lesie drzew ukorzenionych o zbiorze wierzchołków $1, 2, \dots, n$. Początkowo każde drzewo jest jednowierzchołkowe. Operacja Łącz(u,v) polega na połączeniu dwóch różnych drzew o korzeniach u i v w jedno drzewo o korzeniu v , poprzez uczynienie u synem v (podwiązanie u do v). Operacja Głębokość(u) polega na wyznaczeniu głębokości wierzchołka u w

aktualnie zawierającym go drzewie w lesie. Podaj sposób i koszt inicjacji swojej struktury danych, a następnie koszt wykonania każdej z operacji Łącz i Głębokość w zaprojektowanym przez siebie rozwiązaniu.

Rozwiązanie:

Do każdego węzła Find-Union dodajemy atrybut Δ (początkowo równy 0), który będzie zawierał względną odległość do ojca.

Algorytm 4: Głębokość(v)

```
 $v' = Find(v)$   
if  $v \neq v'$  then  
  | return  $\Delta(v) + \Delta(v')$   
else  
  | return  $\Delta(v)$ 
```

Algorytm 5: Find(v)

```
if  $v = p(v)$  then  
  | return  $v$   
else  
  |  $p' = p(v)$   
  |  $v' = Find(p')$   
  |  $p(v) := v' - \text{kompresja ścieżki}$   
  | if  $v' \neq p'$  then  
    |  $\Delta(v) := Delta(v) + Delta(p')$   
  | return  $v'$ 
```

Algorytm 6: Łącz(u, v)

```
 $u' := Find(u)$   
 $v' := Find(v)$   
łączymy według rozmiarów drzew (mniejsze do większego) if  
   $size(u') < size(v')$  then  
    |  $p(u') := v'$   
    |  $\Delta(u') := \Delta(u') + 1$   
else  
    |  $p(v') := u'$   
    |  $\Delta(u') := \Delta(u') + 1$   
    |  $\Delta(v') := \Delta(v') - \Delta(u')$ 
```

11 Klasówka 2013 (1), zadanie 1

Zaprojektuj optymalny algorytm pod względem pesymistycznej liczby porównań, który znajduje dwa środkowe elementy w zbiorze czterech elementów. Dowiedz poprawności swojego rozwiązania.

Rozwiązanie: Algorytm używający 4 porównań:

- porównaj (a, b) i (c, d)
- porównaj $\min(a, b)$ i $\min(c, d)$
- porównaj $\max(a, b)$ i $\max(c, d)$

- w ten sposób wyznaczamy $\min(a, b, c, d)$ i $\max(a, b, c, d)$, pozostałe dwa elementy to poszukiwane środkowe wartości.

12 Klasówka 2013 (1), zadanie 2

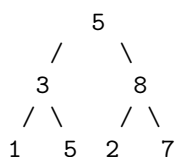
Drzewem klasówkowym nazywamy pełne drzewo binarne, w którym klucze są rozmieszczone zgodnie z następującą regułą: dla każdego węzła x najmniejszy klucz w poddrzewie o korzeniu x znajduje się w jego lewym poddrzewie.

Zaproponuj implementację drzewa klasówkowego w sposób, który umożliwia wydajne wykonywanie operacji kolejki priorytetowej:

- **Ini::** mając dane $n = 2^k - 1$ kluczy zbuduj n -węzłowe drzewo klasówkowe
- **Min::** podaj wartość najmniejszego klucza w drzewie
- **ChangeKey(x, k)::** zmień wartość klucza we wskazanym węźle x na k

Uzasadnij poprawność swoich rozwiązań oraz dokonaj analizy ich złożoności obliczeniowej.

Rozwiązanie: Przykład drzewa klasówkowego:



Wzbogacamy węzły v o dodatkowy atrybut min , który zawiera najmniejszy element z poddrzewa (łącznie z wartością $v.x$). Formuła na aktualizację tego atrybutu:

$$v.min := \min(v.left.min, v.right.min, v.x)$$

Tak jak w kopcu jesteśmy w stanie zdefiniować operację $DownHeap(v)$:

- jeśli v jest liściem to nic nie rób,
- jeśli $v.left.min > v.right.min \rightarrow swap(v.left, v.right)$
- jeśli $v.x < v.left.min, v.right.min \rightarrow$ zamień $v.x$ i $v.left.x$, zaktualizuj $v.min$ i wykonaj $DownHeap(v.left)$

Analogicznie $UpHeap(v)$:

- jeśli v jest korzeniem to nic nie rób,
- niech $p = parent(v)$,
- zaktualizuj $p.min$,
- jeśli $p.left.min > p.right.min \rightarrow swap(p.left, p.right)$
- wykonaj $UpHeap(p)$

Implementacja operacji:

- **Ini::** utwórz drzewo a następnie wykonaj *DownHeap* dla wszystkich węzłów idąc od warstwy k to 1 (tak jak w liniowym algorytmie tworzenia kopca)
- **Min::** zwróć *root.min*
- **ChangeKey::** zmień klucz i wykonaj *DownHeap(v)* i *UpHeap(v)*

13 Klasówka 2013 (1), zadanie 3

Danych jest k uporządkowanych list o długościach będących parami różnymi potęgami dwójki. Zaproponuj wydajny algorytm scalenia tych list w jedną listę uporządkowaną. Uzasadnij poprawność swojego algorytmu i dokonaj analizy jego złożoności obliczeniowej ze względu na liczbę porównań wykonywanych podczas scalania.

Rozwiązanie: Uporządkuj listy rosnąco według długości i scalaj od najkrótszej do najdłuższej. Złożoność czasowa: $O(\sum |L_i|)$. Złożoność pamięciowa: $O(k)$ (na potrzeby uporządkowania list, nie potrzebujemy dodatkowej pamięci na scalanie bo operujemy na listach, które można scalać w pamięci $O(1)$).

14 Klasówka 2014 (1), zadanie 3

Dane są liczby całkowite dodatnie n, k , przy czym $k \leq \sqrt{n}$. W tablicy $a[1..n]$ zapisano n liczb całkowitych o co najmniej k różnych wartościach. Należy zaprojektować algorytm, który stabilnie i w miejscu przemieści k parami różnych liczb na początek tablicy a i uporządkuje je rosnąco. Stabilność w tym przypadku oznacza, że kolejność występowania w tablicy liczb o tych samych wartościach zostaje zachowana. Twój algorytm powinien działać w czasie $O(n \log n)$.

Rozwiązanie: Możemy użyć następującego algorytmu:

Algorytm 7: Solution1(A, k)

Niech B oznacza blok A w którym będziemy gromadzić posortowane rosnąco różne elementy z A

Początkowo B jest pustym blokiem na samym początku A

foreach $i \in 1, \dots, n$ **do**

if *binarySearch*($A[i], B$) **then**

 // element $A[i]$ jest już znany więc go ignorujemy

else

 // element $A[i]$ jest nowy i chcemy go dodać do B

 niech X oznacza blok zaczynający się za B i kończący na $A[i - 1]$

 Exchange(B, X)

 dodaj $A[i]$ do B

if $|B| \geq k$ **then break**

przenieś blok B na początek A

Analiza: Koszt $O(n \log n)$ ze względu na wykonywane $O(n)$ razy wyszukiwanie binarne. Pozostałe operacje zajmują $O(n)$ czasu:

- koszt dodawania nowych elementów to $O(k^2)$ czyli $O(\sqrt{n}^2) = O(n)$,

- koszt wszystkich operacji Exchange to $O(n)$ ponieważ $\sum_{j=1}^p |X_j| \leq n$ (zauważmy, że wszystkie zbiory X_j są rozłączne), oraz $\sum_{j=1}^p |B_j| \leq k^2 \leq n$.

15 Klasówka 2015 (1), zadanie 3

Rozważamy dynamicznie zmieniający się ciąg $A = \langle a_1, a_2, \dots, a_n \rangle$, parami różnych n liczb całkowitych. Na ciągu A dozwolona jest jedyna operacja $NaPoczatek(i)$, $1 \leq i \leq n$, która przesuwa element a_i na początek A .

Przykład: Dla $A = \langle 4, 1, 3, 5, 2 \rangle$, po wykonaniu $NaPoczatek(3)$ dostajemy $A = \langle 3, 4, 1, 5, 2 \rangle$.

Interesuje nas ciąg operacji $NaPoczatek$ o minimalnej długości, których wykonanie posortuje A . Nazwijmy go minimalnym ciągiem sortującym.

- [3 punkty] Zaprojektuj algorytm, który w czasie $O(n)$ wyznacza pierwszy element minimalnego ciągu sortującego.
- [2 punkty] Zaprojektuj efektywny algorytm wyznaczający cały minimalny ciąg sortujący.
- [4 punkty] Udowodnij poprawność swoich rozwiązań.

Dokonaj analizy złożoności czasowej zaproponowanych algorytmów.

Rozwiązanie: Zauważmy, że jeśli algorytm sortujący wykona przeniesienie elementu $a_i = x$ to w kolejnych ruchach musi również przenieść wszystkie elementy o wartościach $1, \dots, x - 1$. Dodatkowo optymalny algorytm sortujący nie przenosi żadnego elementu więcej niż 1 raz.

Podpunkt (a):

Należy wyznaczyć, minimalne $k \leq n$, takie, że $k + 1, k + 2, \dots, n$ jest podciągiem A . Można to zrobić w czasie $O(n)$ analizując ciąg A od prawej strony i szukając kolejno $n, n - 1$, itd. Pierwsza operacja to $NaPoczatek(A^{-1}(k))$ (przeniesienie elementu o wartości k).

Podpunkt (b):

Kolejne operacje to $NaPoczatek(A^{-1}(k - 1))$, $NaPoczatek(A^{-1}(k - 2))$, \dots , $NaPoczatek(A^{-1}(1))$.

Niestety żeby efektywnie wykonywać operację A^{-1} konieczna jest struktura danych, która pozwalała na:

- znalezienie indeksu elementu o wartości x
- usunięcia elementu o wartości x z ciągu
- dodanie elementu o wartości x na początek ciągu

Przy pomocy drzew zrównoważonych, każdą z tych operacji można wykonać w czasie $O(\log n)$. Co daje algorytm o złożoności $(n \log n)$.

Przykład:

```
A = 4 1 5 6 3 7 2
k=3, ponieważ [4,5,6,7] jest podciągiem A
NaPoczatek(A^{-1}(3)=5)
A_1 = 3 4 1 5 6 7 2
```

```

NaPoczatek(A^{-1})(2)=7
A_2 = 2 3 4 1 5 6 7
NaPoczatek(A^{-1})(1)=4
A_3 = 1 2 3 4 5 6 7

```

16 Klasówka 2015 (2), zadanie 2

Niech A będzie skończonym, dynamicznie zmieniającym się ciągiem, którego elementami są liczby ze zbioru $\{-1, 0, 1\}$. Podciąg kolejnych elementów A nazwiemy dobrym, gdy jego suma jest równa zero. Podciąg jest super-dobry, gdy jest dobry i suma elementów w każdym jego prefiksie jest nieujemna.

Przykład: W ciągu $A = [1, 1, 0, -1, 0, 0, 1, -1, 1, 1, -1]$, podciąg $-1, 1, 1, -1$ jest dobry, ale nie super-dobry. Super-dobrym podciągiem jest na przykład $1, 0, -1$.

1. Zaproponuj algorytm, który w czasie liniowym obliczy długość najdłuższego super-dobrego podciągu danego ciągu A .
2. Zaproponuj strukturę danych, która pozwoli na wydajne wykonywanie następujących operacji na A :
 - $\text{Ini}(A)$:: $A := []$; //wykonywana tylko raz, na początku
 - $\text{Wstaw}(A, e, i)$:: wstaw nowy element e jako i -ty w A , $1 \leq i \leq |A| + 1$;
 - $\text{Usuń}(A, i)$:: usuń i -ty element z A , $1 \leq i \leq |A|$
 - $\text{SuperDobry}(A, i, j)$:: sprawdź, czy podciąg $A[i..j]$ jest super-dobry, $1 \leq i \leq j \leq |A|$;

W każdym zadaniu uzasadnij poprawność swoich rozwiązań i dokonaj analizy złożoności obliczeniowej zaproponowanych algorytmów.

17 Klasówka 2016 (1), zadanie 2

Niech n będzie dodatnią liczbą całkowitą. Dla dodatniej liczby całkowitej k powiemy, że ciąg liczb $a[1], \dots, a[n]$ jest k -dobry, jeśli każda inwersja (i, j) , $1 \leq i < j \leq n$, spełnia $j \leq i + k$.

- a) [8 punktów] zaproponuj asymptotycznie optymalny ze względu na porównania algorytm sortujący ciągi k -dobre. Uzasadnij asymptotyczną optymalność swojego algorytmu. Uwaga: w tym zadaniu argumentami funkcji złożoności są k i n .
- b) [5 punktów] zaproponuj efektywny czasowo i pamięciowo algorytm, który sprawdza czy ciąg liczb $a[1], \dots, a[n]$ dla zadanej liczby całkowitej k , jest k -dobry. Uzasadnij poprawność algorytmu i dokonaj analizy czasowej i pamięciowej

Rozwiązanie: (a) Dowolny algorytm sortujący oparty o porównania musi wykonać $\Omega(n \log k)$ porównań: istnieje co najmniej $(k!)^{n/k}$ różnych permutacji n -elementowych, które są k -dobre. Stąd algorytm sortujący musi wykonać co

najmniej $\log((k!)^{n/k})$ porównań, czyli $\Omega(n/k \cdot k \log k) = \Omega(n \log k)$. Konstrukcja tej rodziny permutacji: podziel liczbę na bloki $B_1 = 1..k$, $B_2 = k + 1..2k$, itd. permutacja otrzymana z dowolnego przemieszania bloków $p(B_1) + p(B_2) + p(B_3) \dots$ jest k -dobra.

Algorytm: sortuj kolejno bloki długości $2k$ zaczynające się na pozycjach $1, k + 1, 2k + 1, \dots$

(b) Niech $pmax[i]$ oznacza $\max a[1..i]$ (maksymalne wartości dla wszystkich prefiksów tablicy, uwaga! $pmax[i]$ nie zawiera $a[i]$). Tablica a jest k -dobra, jeśli

$$\forall_{k \leq j \leq n} pmax[j - k] \leq a[j]$$

18 Klasówka 2016 (2), zadanie 1

Zaprojektuj strukturę danych, która implementuje standardowe operacje słownika reprezentującego zbiór S liczb całkowitych (Insert, Delete, Find) oraz dodatkowo operację:

- $MaxSubset(d, S)$:: podaj rozmiar maksymalnego podzbioru zbioru S , w którym każde dwie liczby różnią się co najmniej o d , gdzie d jest zadaną z góry stałą całkowitą.

Podaj rozwiązanie dla:

- (4 punkty) $d=2$,
- (7 punktów) $d=10$.

Uzasadnij poprawność swoich rozwiązań i przeanalizuj złożoność czasową poszczególnych operacji na strukturze danych względem n (aktualnego rozmiaru struktury).

19 Klasówka 2017 (1), zadanie 1

W liczbowym, różnowartościowym ciągu $\langle a_1, a_2, \dots, a_n \rangle$, $n > 2$, element a_i , $1 < i < n$, nazywamy lokalnym ekstremum gdy jest mniejszy lub większy od obu sąsiadów, tzn.

$$\text{albo } a_{i-1} > a_i < a_{i+1}, \text{ albo } a_{i-1} < a_i > a_{i+1}$$

- Udowodnij, że każdy algorytm sortujący przez porównania 4-elementowe ciągu z co najwyżej jednym lokalnym ekstremum wymaga wykonania w pesymistycznym przypadku co najmniej 4 porównań.
- Zaproponuj algorytm sortowania 4-elementowych ciągów z co najwyżej 1 lokalnym ekstremum za pomocą co najwyżej 4 porównań
- Zaproponuj algorytm, asymptotycznie optymalny ze względu na liczbę porównań, sortujący ciągi o co najwyżej k lokalnych ekstremach dla zadanego k , $0 < k < n$. Dowiedz optymalności swojego rozwiązania.

20 Klasówka 2017 (2), zadanie 1

Niech S będzie skończonym podzbiorem różnych, dodatnich liczb całkowitych, a d dodatnią liczbą całkowitą.

- (5 punktów) Przyjmij, że elementy zbioru zapisano w uporządkowanej malejąco tablicy $a[1..n]$, gdzie $n = |S|$. Zaprojektuj wydajny algorytm, który policzy liczbę (nieuporządkowanych) par różnych elementów z S , których suma jest nie większa od d . Przykład Dla $S = \{6, 5, 2, 1\}$ i $d = 7$, liczba takich par wynosi 4.
- (5 punktów) Załóżmy, że d jest ustalone (ale może być bardzo duże), natomiast S jest zbiorem dynamicznym. Zaprojektuj efektywną strukturę danych, która umożliwi wydajne wykonywanie na zbiorze S następujących operacji:
 - $\text{Ini}(S):: S := \emptyset$; // operacja wykonywana raz, na samym początku obliczeń;
 - $\text{Insert}(x, S):: S := S \cup \{x\}$;
 - $\text{Delete}(x, S):: S := S - \{x\}$;
 - $\text{Pairs}(S)::$ return liczba par różnych elementów z S , których suma jest nie większa od d .

Zaproponuj rozwiązanie, w którym operacje Insert i Delete są wykonywane w czasie $O(\log |S|)$, a operacja Pairs w czasie stałym, niezależnie od wielkości d . Możesz przyjąć, że operacje arytmetyczne i porównania na liczbach są wykonywane w stałym czasie.

21 Klasówka 2019 (1), zadanie 1

- (2 punkty) Ile jest permutacji liczb od 1 do n o co najwyżej 2 inwersjach?
- (3 punkty) Zaproponuj optymalny (ze względu na liczbę porównań) algorytm sortujący przez porównania ciągi różnowartościowe o co najwyżej 2 inwersjach.

22 Klasówka 2019 (1), zadanie 2

Rozważamy klasyczne sortowanie przez wstawianie tablicy $a[1..n]$, w porządku niemalejącym, w której zapisano pewną permutację liczb od 1 do n . Zaprojektuj wydajny algorytm, który dla danej zawartości tablicy a wyznaczy najmniejsze takie i , że podczas sortowania przez wstawianie $a[i]$ jest porównywane najczęściej.

Rozwiązanie:

Element $a[i]$ jest porównany:

- niech $k = |\{j : a[j] > a[i] \text{ oraz } j < i\}|$ z k elementami podczas i -tej fazy sortowania, które zakończyły się zamianą elementów
- niech $m = |\{j : a[j] < a[i] \text{ oraz } j > i\}|$ z m elementami podczas kolejnych faz sortowania, które zakończyły się zamianą elementów

- niech p to liczba elementów z którymi porównywany jest $a[i]$ ale porównanie nie zakończyło się zamianą.

Jak policzyć wartości p :

```

foreach  $x \in A$  do
   $p_x = 0$ 
 $S := \emptyset$ 
for  $i = 1..n$  do
   $x = A[i]$ 
   $y = \max\{y \in S : y < x\}$ 
  if  $y$  jest zdefiniowane then
     $p_x := p_x + 1$ 
     $p_y := p_y + 1$ 
   $S = S + \{A[i]\}$ 

```

23 Klasówka 2019 (1), zadanie 3

Dana jest tablica $a[1..4n]$, w której znajduje się po n rekordów etykietowanych każdą z liczb ze zbioru $\{0, 1, 2, 3\}$.

- (4 punkty) Zaprojektuj liniowy algorytm sortujący tablicę a względem etykiet rekordów w miejscu.
- (4 punkty) Podaj algorytm działający w czasie $O(n \log n)$, który sortuje tablicę a względem etykiet rekordów w miejscu i stabilnie (tzn. kolejność rekordów o tej samej etykietce przed i po sortowaniu jest taka sama).

Rozwiązanie:

Algorytm liniowy (3 krotne rozwiązanie problemu flagi polskiej):

```

foreach  $x \in \{0, 1, 2\}$  do
   $j := 1$ 
  for  $i := 1$  to  $4n$  do
    if  $a[i] \leq x$  then
      if  $j < i$  then swap( $i, j$ )
       $j := j + 1$ 

```

Algorytm $O(n \log n)$ (3 krotne rozwiązanie problemu stabilnego sortowania ciągów 0/1)

Algorytm 8: Sort

Data: $a[i..j], x$ **Result:** $a[i..j]$ uporządkowana w ten sposób, że wszystkie wartości $\leq x$ występują przed wartościami $> x$ **if** $i < j$ **then** $m := \lfloor (i + j)/2 \rfloor$ $Sort(a[i..m], x)$ $Sort(a[m + 1..j], x)$ niech L blok $a[i..m]$ zawierający wartości $> x$ niech R blok $a[m + 1..j]$ zawierający wartości $\leq x$ **if** $|L| > 0$ **and** $|R| > 0$ **then** zamień ze sobą bloki L i R

foreach $x \in \{0, 1, 2\}$ **do** $Sort(a, x)$

Powyższy algorytm używa pamięci dodatkowej rzędu $O(\log n)$ ale łatwo zamienić rekurencję na iterację i osiągnąć pamięć $O(1)$.

24 Klasówka 2020 (1), zadanie 1

Na uporządkowanym rosnąco n -elementowym ciągu x_1, x_2, \dots, x_n dokonano dokładnie k zmian wartości elementów w tym ciągu, $0 \leq k \leq n$. Ciąg otrzymany w ten sposób nazywamy k -zaburzonym.

Przykład

Uporządkowany ciąg $\langle 2, 6, 8, 12, 21 \rangle$. Po zmianach wartości elementów - pierwszego na 7 i czwartego na 1 - dostajemy ciąg 2-zaburzony $\langle 7, 6, 8, 1, 21 \rangle$.

Dana jest liczba całkowita k , $0 \leq k \leq n$, oraz k -zaburzony ciąg $x = \langle x_1, x_2, \dots, x_n \rangle$. Interesuje nas wydajne sortowanie ciągu x ze względu na porównania.

- a) Zaproponuj optymalne sortowanie ze względu na porównania dla $k = 1$ oraz
- $n = 4$
 - $n = 5$
- b) Zaproponuj asymptotycznie optymalny algorytm sortowania k -zaburzonych ciągów n -elementowych. Pamiętaj o uwzględnieniu obu parametrów - n i k .

Rozwiązanie: Punkt b)

Algorytm 9: Rozwiązanie($(x_1, \dots, x_n), k$)

```
A = Y = ∅
for i = 1, ..., n do
  if A ≠ ∅ and Top(A) > xi then
    ▷ co najmniej jeden element z {Top(A), xi} jest zaburzony, dla
    pewności wrzucamy oba
    Push(Y, xi)
    Push(Y, Pop(A))
  else
    Push(A, xi)
▷ |Y| ≤ 2k, A zawiera ciąg uporządkowany rosnąco
Y' = sort(Y)
return Merge(A, Y')
```

25 Klasówka 2021 (1), zadanie 1

Powiemy, że zbiór n liczb całkowitych jest prawie gęsty, jeśli zawiera podzbiór o rozmiarze większym niż $n/3$, w którym różnica pomiędzy największym i najmniejszym elementem jest mniejsza od n . Taki podzbiór nazywamy świadectwem. Dana jest dodatnia liczba całkowita n oraz n -elementowy zbiór liczb całkowitych S . Zaproponuj algorytm, który w czasie liniowym sprawdzi, czy S jest prawie gęsty.

Uwaga: 3 punkty uzyskasz za algorytm, który w czasie liniowym sprawdza, czy wskazany, dowolny element z S należy do jakiegoś świadectwa.

Rozwiązanie:

Algorytm 10: CzyNależy(S, n, x)

```
niech S' = {e ∈ S : |e - x| < n}
ponieważ wszystkie elementy z S' należą do przedziału [e - n, ..., e + n]
długości 2n + 1 stąd możemy posortować S' w czasie liniowym
S'' = sorted(S')
for i = 1, ..., m - ⌈n/3⌉ + 1 do
  j := i + ⌈n/3⌉ - 1
  if S''[j] - S''[i] < n then
    return TAK (ponieważ si, ..., sj + być ewentualnie x są
    świadectwem)
return NIE
```

Algorytm 11: Rozwiązanie(S, n)

```
foreach k ∈ {⌈n/4⌉, ⌈n/2⌉, ⌈3n/4⌉} do
  x := DeterministicSelectKthElement(S, k)
  if CzyNależy(S, n, x) then
    return TAK
return NIE
```

26 Klasówka 2021 (1), zadanie 2

Zaproponuj optymalny ze względu na porównania algorytm sortowania siedmioelementowego ciągu x_1, \dots, x_7 , o którym wiadomo, że $x_1 < x_2$, $x_1 < x_3$, $x_4 < x_5$, $x_4 < x_6$. Udowodnij optymalność swojego algorytmu.

Rozwiązanie: Wszystkich permutacji 7 elementowych spełniających warunki zadania jest:

$$\binom{7}{3} \cdot 2 \cdot \binom{4}{3} \cdot 2 = 35 \cdot 2 \cdot 4 \cdot 2 = 560$$

Ponieważ:

- $\{x_1, x_2, x_3\}$ możemy wybrać z 7 elementów na $\binom{7}{3}$ sposobów
- mamy dwie możliwości na porównanie x_2 i x_3 ($x_2 < x_3$ lub $x_2 > x_3$)
- $\{x_4, x_5, x_6\}$ możemy wybrać z pozostałych 4 elementów na $\binom{4}{3}$ sposobów,
- mamy dwie możliwości na porównanie x_5 i x_6 ($x_5 < x_6$ lub $x_5 > x_6$)

Algorytm 12: Rozwiązanie

cmp(x_2, x_3) (bez straty ogólności $x_2 < x_3$)
cmp(x_5, x_6) (bez straty ogólności $x_5 < x_6$)
wstaw x_7 pomiędzy $x_1 < x_2 < x_3$ używając 2 porównań
scal dwa uporządkowane ciągi (4 i 3 elementowe) przy użyciu 6 porównań

27 Klasówka 2021 (1), zadanie 3

Dla dodatniej liczby całkowitej n kratownicą M_n nazywamy skierowany graf (V, E) bez pętli, w którym $V = \{(x, y) : x = 0, 1, \dots, n \text{ oraz } y = 0, 1, \dots, n\}$ i

$$E = \{(x, y) \rightarrow (x', y') : 0 \leq x' - x \leq 1 \text{ oraz } 0 \leq y' - y \leq 1\}.$$

Wierzchołki grafu M_n pomalowano na białą lub czarno. Białą ścieżką nazwiemy każdą ścieżkę, na której wszystkie wierzchołki są białe. Dane są liczba całkowita $n > 0$, nieujemna liczba całkowita $m \leq (n+1)^2$ oraz m różnych, białych wierzchołków $(x_1, y_1), (x_2, y_2), \dots, (x_m, y_m)$. Pozostałe wierzchołki są czarne. Zaproponuj wydajny (czasowo i pamięciowo) algorytm, który obliczy liczbę wszystkich białych ścieżek z wierzchołka $(0, 0)$ do wierzchołka (n, n) .

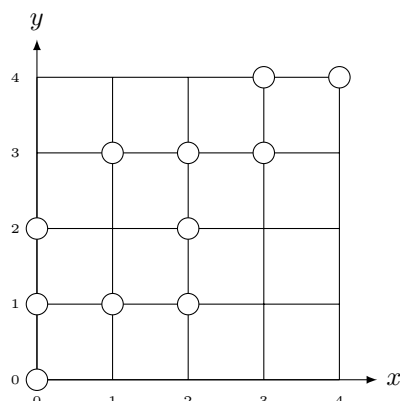
Rozwiązanie: Aby uprościć rozumowanie załóżmy, że wszystkie operacje arytmetyczne możemy wykonywać w czasie stałym. Jest to o tyle istotne, że wynikowa wartość może być większa niż $\binom{2n}{n}$ (to jest liczba ścieżek dla pełnego białego grafu M_n w których poruszamy się tylko w prawo lub w górę).

Przykład:

Dla $n = 4$ i $m = 11$ białych wierzchołków:

$$B = \{(0, 0), (0, 1), (0, 2), (1, 1), (1, 3), (2, 1), (2, 2), (2, 3), (3, 3), (3, 4), (4, 4)\}$$

mamy następujący graf:



Niech $Ile(i, j)$ oznacza liczbę białych ścieżek z $(0, 0)$ do (i, j) spełniających warunki zadania.

Jeśli $m = \Theta(n^2)$ to możemy w czasie $O(n^2)$ policzyć $Ile(n, n)$ korzystając z następujących wzorów:

$$Ile(0, 0) = \begin{cases} 1 & \text{jeśli wierzchołek } (0, 0) \text{ jest biały} \\ 0 & \text{wpp} \end{cases}$$

$$Ile(\cdot, -1) = Ile(-1, \cdot) = 0$$

Jeśli (i, j) jest biały to:

$$Ile(i, j) = Ile(i - 1, j) + Ile(i - 1, j - 1) + Ile(i, j - 1)$$

Jeśli (i, j) jest czarny to:

$$Ile(i, j) = 0$$

Jeśli $m < n$ to odpowiedzią jest 0 (nie ma wystarczająco dużo białych węzłów).

Jeśli $m = \Omega(n)$ to możemy policzyć $Ile(n, n)$ w czasie $O(m)$. Załóżmy, że wierzchołki $(0, 0)$ i (n, n) są białe (jeśli byłoby inaczej to oczywiście odpowiedzią jest 0).

Zdefiniujmy sobie 3 porządki $\langle_{x,y}$, $\langle_{y,x}$, \langle_d na parach liczb:

- $(x_1, y_1) \langle_{x,y} (x_2, y_2)$ wtw $(x_1 < x_2)$ lub $(x_1 = x_2) \wedge (y_1 < y_2)$
- $(x_1, y_1) \langle_{y,x} (x_2, y_2)$ wtw $(y_1 < y_2)$ lub $(y_1 = y_2) \wedge (x_1 < x_2)$
- $(x_1, y_1) \langle_d (x_2, y_2)$ wtw $(x_1 - y_1 < x_2 - y_2)$ lub $(x_1 - y_1 = x_2 - y_2) \wedge (x_1 < x_2)$

W pierwszym kroku uporządkujemy leksykograficznie (czyli wg. $\langle_{x,y}$) ciąg B . Od teraz zakładamy, że:

$$(x_1, y_1) \langle_{x,y} (x_2, y_2) \langle_{x,y} \dots \langle_{x,y} (x_m, y_m)$$

Przy takim uporządkowaniu definiujemy $Ile[i]$ jako liczbę białych ścieżek z $(0, 0)$ do (x_i, y_i) .

Dodatkowo definiujemy pomocnicze wartości:

$$\text{GDZIE}X[i] = \begin{cases} j & \text{jeśli } (x_j = x_i) \wedge (y_j + 1 = y_i) \\ -1 & \text{jeśli takie } j \text{ nie istnieje} \end{cases}$$

$$\text{GDZIE}Y[i] = \begin{cases} j & \text{jeśli } (y_j = y_i) \wedge (x_j + 1 = x_i) \\ -1 & \text{jeśli takie } j \text{ nie istnieje} \end{cases}$$

$$\text{GDZIE}D[i] = \begin{cases} j & \text{jeśli } (x_j + 1 = x_i) \wedge (y_j + 1 = y_i) \\ -1 & \text{jeśli takie } j \text{ nie istnieje} \end{cases}$$

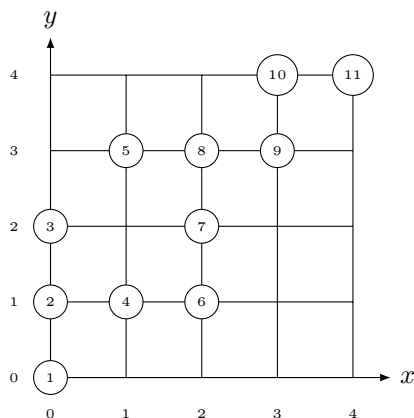
Wartości $\text{GDZIE}(X/Y/D)$ można obliczyć w czasie $O(m)$ sortując wierzchołki wg porządków $<_{x,y} / <_{y,x} / <_d$ (co możemy zrobić w czasie $O(m)$). Jedynym kandydatem na wartość Gdzie jest poprzedni wierzchołek w danym porządku (co możemy zweryfikować w czasie $O(1)$).

Gdy już mamy obliczone wartości Gdzie , wartości Ile obliczamy korzystając ze wzoru:

$$\text{ILE}[i] = \text{ILE}[\text{Gdzie}X[i]] + \text{ILE}[\text{Gdzie}Y[i]] + \text{ILE}[\text{Gdzie}D[i]]$$

(przy czym sztucznie definiujemy $\text{ILE}[-1] = -0$)

Przykład:



| i | 1 | 2 | 3 | 4 | 5 | 6 | 7 | 8 | 9 | 10 | 11 |
|--------------------|-------|-------|-------|-------|-------|-------|-------|-------|-------|-------|-------|
| (x_i, y_i) | (0,0) | (0,1) | (0,2) | (1,1) | (1,3) | (2,1) | (2,2) | (2,3) | (3,3) | (3,4) | (4,4) |
| $\text{GDZIE}X[i]$ | -1 | 1 | 2 | -1 | -1 | -1 | 6 | 7 | -1 | 9 | -1 |
| $\text{GDZIE}Y[i]$ | -1 | -1 | -1 | 2 | -1 | 4 | -1 | 5 | 8 | -1 | 10 |
| $\text{GDZIE}D[i]$ | -1 | -1 | -1 | 1 | 3 | -1 | 4 | -1 | 7 | 8 | 9 |
| $\text{ILE}[i]$ | 1 | 1 | 1 | 2 | 1 | 1 | 3 | 4 | 7 | 11 | 18 |

28 Klasówka 2022 (1), zadanie 1

Dla dodatniej liczby całkowitej n , w tablicy $a[1..n]$ zapisano n różnych elementów z pewnego liniowo uporządkowanego uniwersum. Rangą elementu $a[i]$, oznaczonego przez $R(i)$, nazywamy pozycję tego elementu w tablicy a po jej uporządkowaniu rosnąco.

Przykład

Dla $a = [2, 5, 3, 4]$, rangami elementów $a[1], a[2], a[3], a[4]$ są odpowiednio 1, 4, 2, 3.

Dla nieujemnej liczby całkowitej k powiemy, że tablica jest k -zaburzona wtedy i tylko wtedy, gdy dla każdego $i = 1, 2, \dots, n$, $|R(i) - i| \leq k$. Dana jest liczba całkowita k , $0 \leq k < n$, oraz k -zaburzona tablica $a[1..n]$.

- a) Zaproponuj wydajny algorytm, który zbuduje w tablicy a kopiec zupełny typu MIN.
- b) Zaproponuj algorytm, optymalny ze względu na liczbę porównań, sortowania 1-zaburzonej tablicy a .
- c) Zaproponuj asymptotycznie optymalny algorytm sortowania tablicy a .

Rozwiązanie: Obserwacja: w tablicy k -zaburzonej jeśli $i + 2k < j$ to mamy $A[i] < A[j]$.

Punkt a) utwórz kopiec na pierwszych $4k$ elementach (pozostałe elementy będą już tworzyć dobry porządek kopcowy).

Punkt b) w tablicy 1-zaburzonej tylko sąsiednie elementy mogą być zamienione. Więc wystarczy $n - 1$ porównań.

Punkt c) złożoność czasowa $O(n \log k)$:

Algorytm 13: Rozwiązanie(A, n, k)

```

i = 1
while i < n do
    HeapSort(A[i, ..., i + 4k])
    i += 2k

```

29 Klasówka 2022 (1), zadanie 2

W tym zadaniu rozważamy skończone słowa nad alfabetem $\{d, i, k, s\}$. Niech s będzie słowem i niech $s[j]$ będzie j -tym znakiem w tym słowie. Blokiem znaku $s[j]$ nazywamy maksymalne podsłowo s zawierające znak $s[j]$, w którym wszystkie znaki są takie same, równe $s[j]$. Taki blok oznaczamy przez $B(s, j)$.

Przykład

W słowie $s = abbaac$ mamy $B(s, 3) = bb$, $B(s, 4) = aa$.

O dwóch słowach s_1 i s_2 powiemy, że są podobne wtedy i tylko wtedy, gdy $|s_1| = |s_2|$ oraz dla każdego $j = 1, \dots, |s_1|$, bloki $B(s_1, j)$ i $B(s_2, j)$ są tej samej długości.

Zaprojektuj wydajny algorytm, który dla danego zbioru Q złożonego z n skończonych słów nad alfabetem $\{d, i, k, s\}$, wyznaczy wszystkie jego maksymalne (nie dające się rozszerzyć) podzbiory słów podobnych.

Rozwiązanie: Dla słów z Q definiujemy funkcję kodową $C(x_1, \dots, x_k) = (i_1, \dots, i_p)$ takie, że $1 \leq i_1 \leq i_2 \leq i_p = k$ oraz $x[i_j] \neq x[i_{j+1}]$.

Następnie sortujemy wszystkie kody słów i liczymy ile różnych kodów otrzymaliśmy.